



ÉPERNAY DANS LA GRANDE GUERRE :

La vie quotidienne d'une ville en guerre

∞ 13 ans à 15 ans ∞

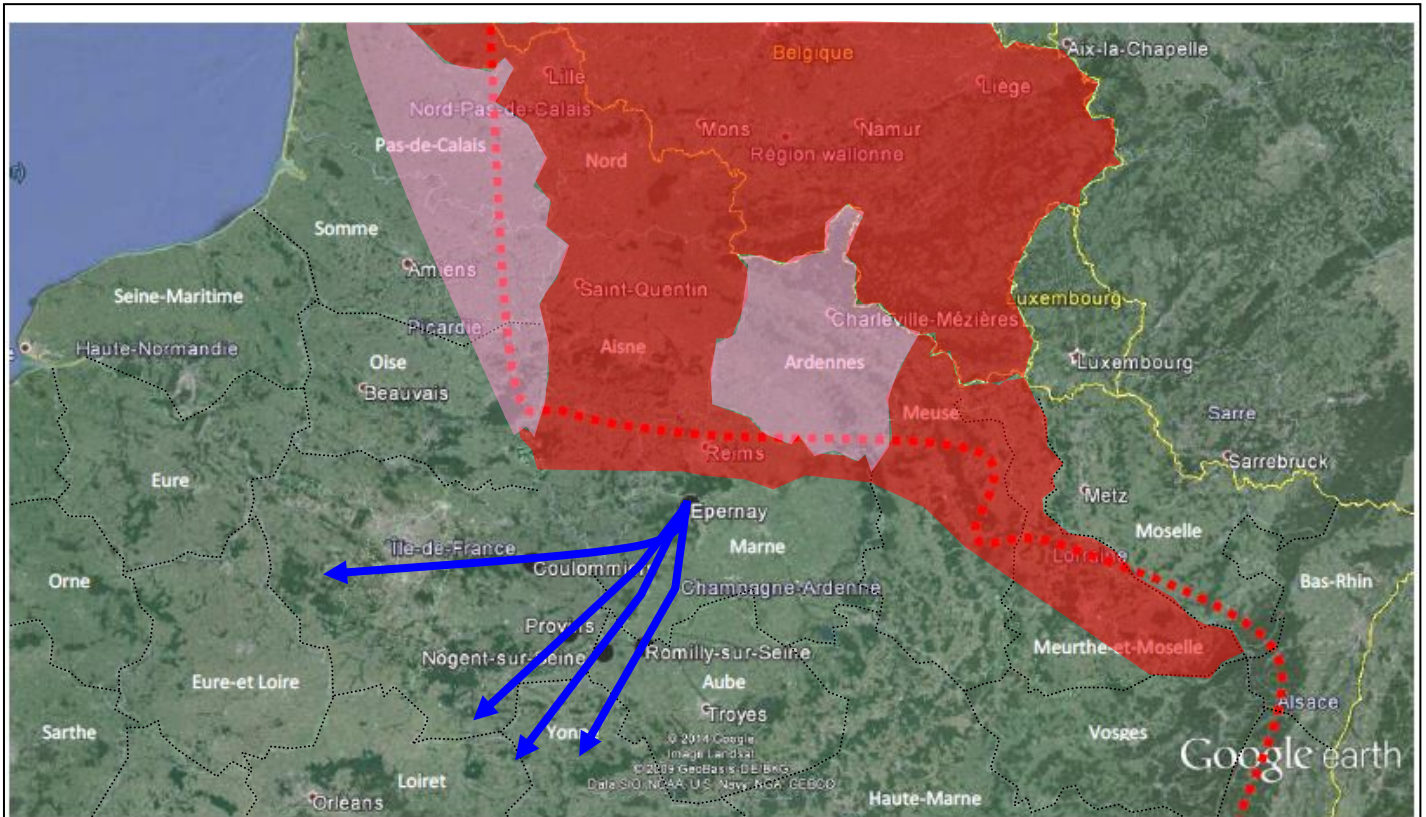
Archives municipales d'Épernay

∞ *Livret Professeur* ∞

Directrice : Mme LAKOMY

Professeur-animateur : M. de GOSTOWSKI

EPERNAY, UNE VILLE DE REPLI



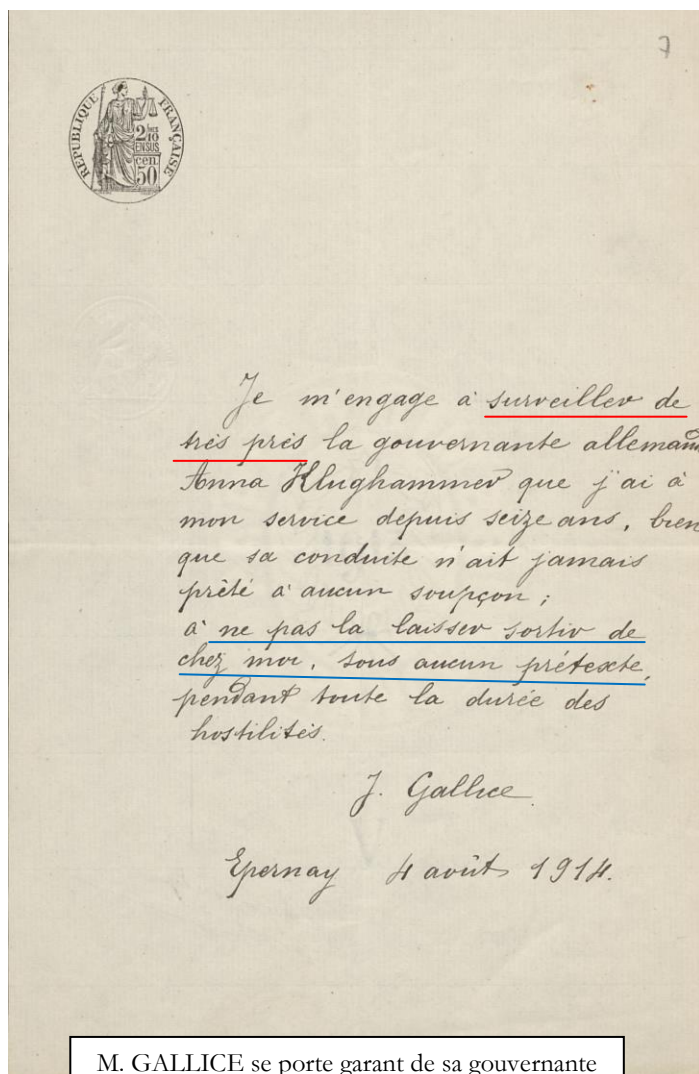
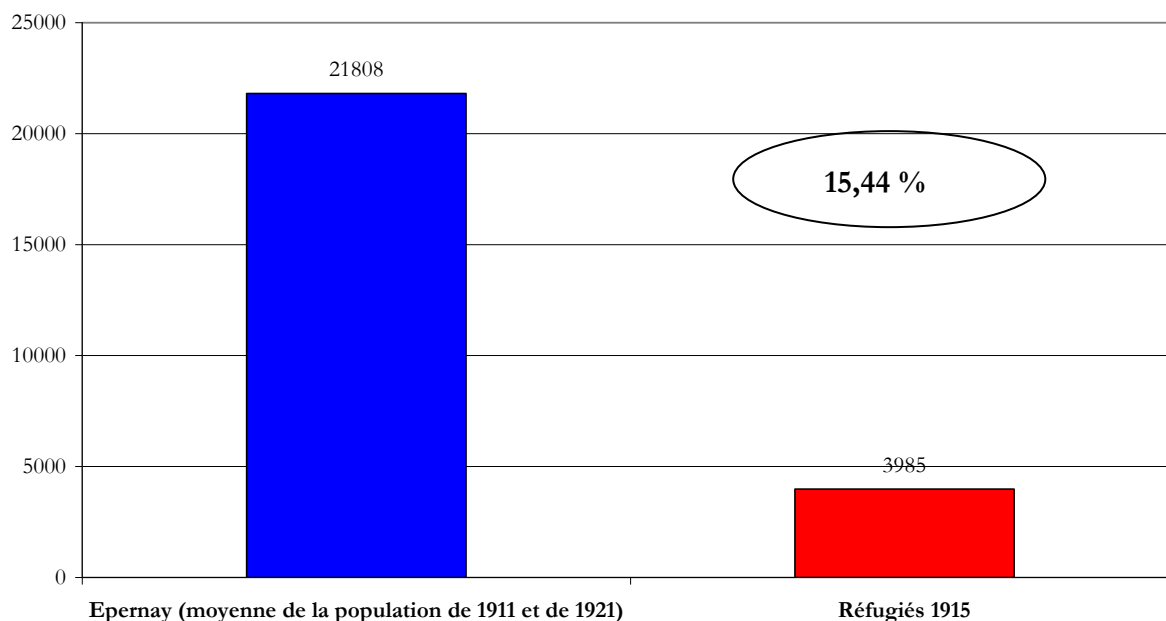
- Limite approximative du Front en date du 19 octobre 1914
- Limites départementales
- Frontière des Etats
- Départements de départ des populations qui se replient à Epernay.
- Départements de fuite possible vers Epernay
- ➔ Destination d'évacuation depuis Epernay.

1 – Que signifie être une **ville de repli** ? Aidez-vous du panneau ainsi que de la carte ci-dessus.

- Epernay est à 30 km des combats. Les populations du Nord en danger se replient (fuient) vers Epernay pour être évacuées vers l'arrière (= zone où l'on ne se bat pas).
- Un accord entre l'armée française et allemande fait d'Epernay une ville où les soldats allemands peuvent venir se reposer.
- Des usines de confection d'obus s'installent à Epernay. La tôle doit être pliée, on parle de ville de repli.

2 – Placez sur le graphique ci-dessous le nombre de réfugiés que compte la ville d’Epernay au 1^{er} janvier 1915.

Population sparnacienne et réfugiés



M. GALLICE se porte garant de sa gouvernante
Archives municipales d'Epernay, 4H46

3 – Quelle **conséquence** cet afflux de population a-t-il sur la ville d’Epernay ? **Donnez-en deux exemples.**

C'est environ un habitant sur six qui est un réfugié à Epernay au début du conflit. La ville doit se charger de ces populations en les nourrissant, en les soignant et en les logeant. Il s'agit donc d'un surcoût pour la ville qui connaît déjà des temps difficiles. Cette présence a donc un impact notable :

- prise en charge des frais de logement, de chauffage et de nourriture,
- réquisition des écoles pour le logement,
- hôpital surchargé.

4 – D'après le document de la page suivante (visible dans une vitrine), **qui est Anna KLUGHAMMER ?**

Anna KLUGHAMMER est la gouvernante de M. GALLICE.

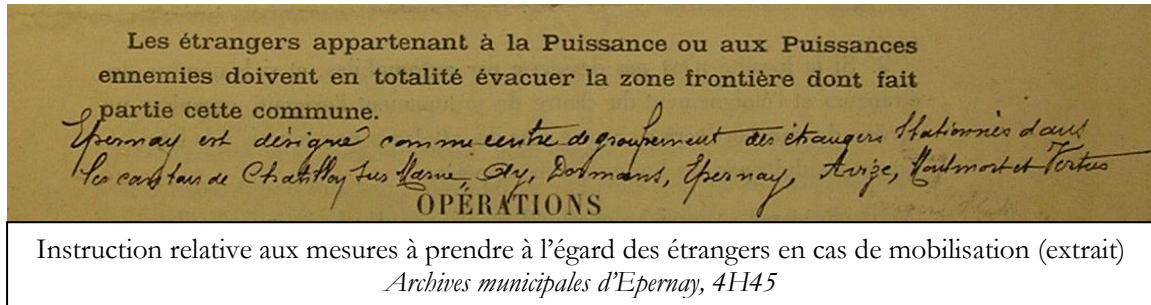
5 – **Soulignez en rouge** dans le document ci-contre ce que M. GALLICE s'engage à faire vis-à-vis d'Anna.

6 – **Soulignez en bleu** ce qu'Anna ne pourra pas faire librement pendant la durée de la guerre.

7 – Selon vous, **pourquoi Anna doit subir ce sort ?**

Anna KLUGHAMMER est de nationalité allemande. Elle est donc ressortissante d'une puissance ennemie. Elle est donc un danger potentiel.

8 – D'après le document ci-dessous (original en vitrine), **quel sort aurait dû lui être réservé ?**



Les étrangers issus des Puissances ennemies (Empires allemands, austro-hongrois et ottomans) doivent être recensés par les communes et regroupés dans des centres de groupement des étrangers. Il s'agit de centres d'internements que M. Jean-Claude FARCY a abusivement appelé camps de concentration dans son ouvrage de 1995.

9 – D'après le document ci-dessus, quel rôle Epernay joue-t-elle dans la **surveillance des étrangers ?**

- Epernay doit emprisonner tous les étrangers des puissances étrangères pour la durée du conflit.
- Epernay est le centre de groupement des étrangers. Elle doit également vérifier l'identité des étrangers et dénombrer les familles.
- Epernay décide de cacher les étrangers des puissances ennemies.

L'APPROVISIONNEMENT DE LA VILLE

1 – Les produits alimentaires doivent aller en priorité aux soldats. Très rapidement la nourriture manque. Quelles **réactions** craint la municipalité de la part de la population ?

- La municipalité a peur que les commerçants profitent de ce manque pour augmenter les prix de manière indécente afin de s'enrichir (= spéculation).
- La municipalité a peur que la population arrache les vignes pour planter des légumes et élever des animaux.
- La municipalité a peur que certains habitants volent les biens dont ils ont besoin et créent des troubles à l'ordre public.

2 – De quelle manière la municipalité d'Épernay lutte contre cette réaction de la population ? Entourez les bonnes propositions.

Emprisonnement des commerçants abusifs

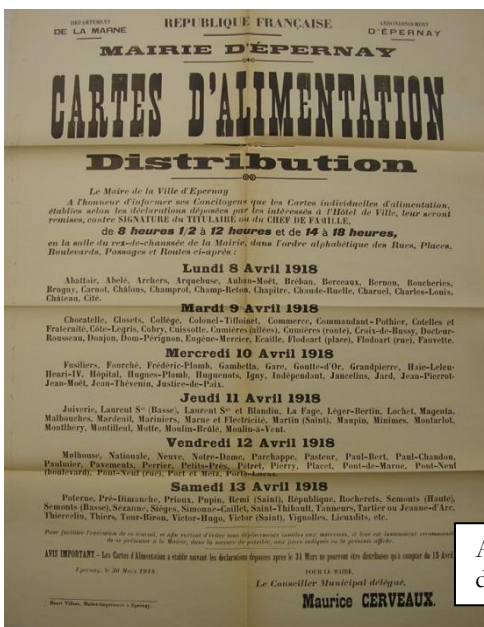
Création d'une garde civile pour surveiller les marchés

Fixation d'un prix maximum des denrées

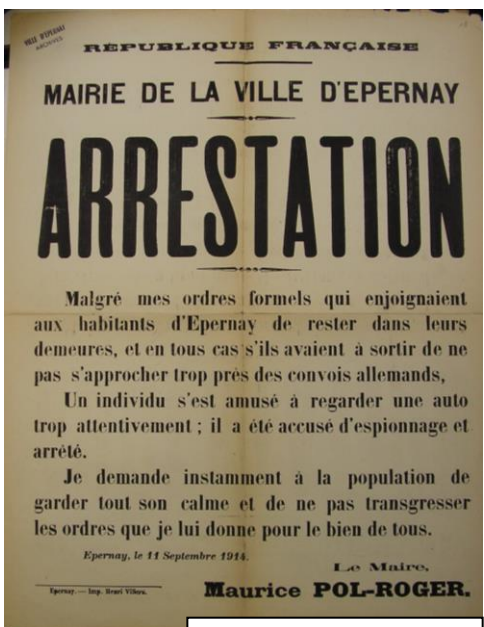
Mise à mort des contrevenants

Suppression des vignes pour planter des légumes

3 – Quelles **solutions** le maire trouve-t-il au manque de produits (alimentaires et énergétiques) ? Cochez les bons documents.



Archives municipales d'Épernay, 6F1



Archives municipales d'Épernay, 4H39

Par bordereau N° 270 du 25 Décembre 1914, la Direction de l'Arrière a prescrit au Général D.E.S. de la V^e Armée de faire une enquête au sujet de réquisitions opérées par le Maire d'Épernay sur des pánicoes chargées de charbon à gaz qui traversaient le territoire de sa commune et qui étaient destinées à la Compagnie d'éclairage du gaz à BORDEAUX "5, rue Condé".

Archives municipales d'Épernay, 4H42

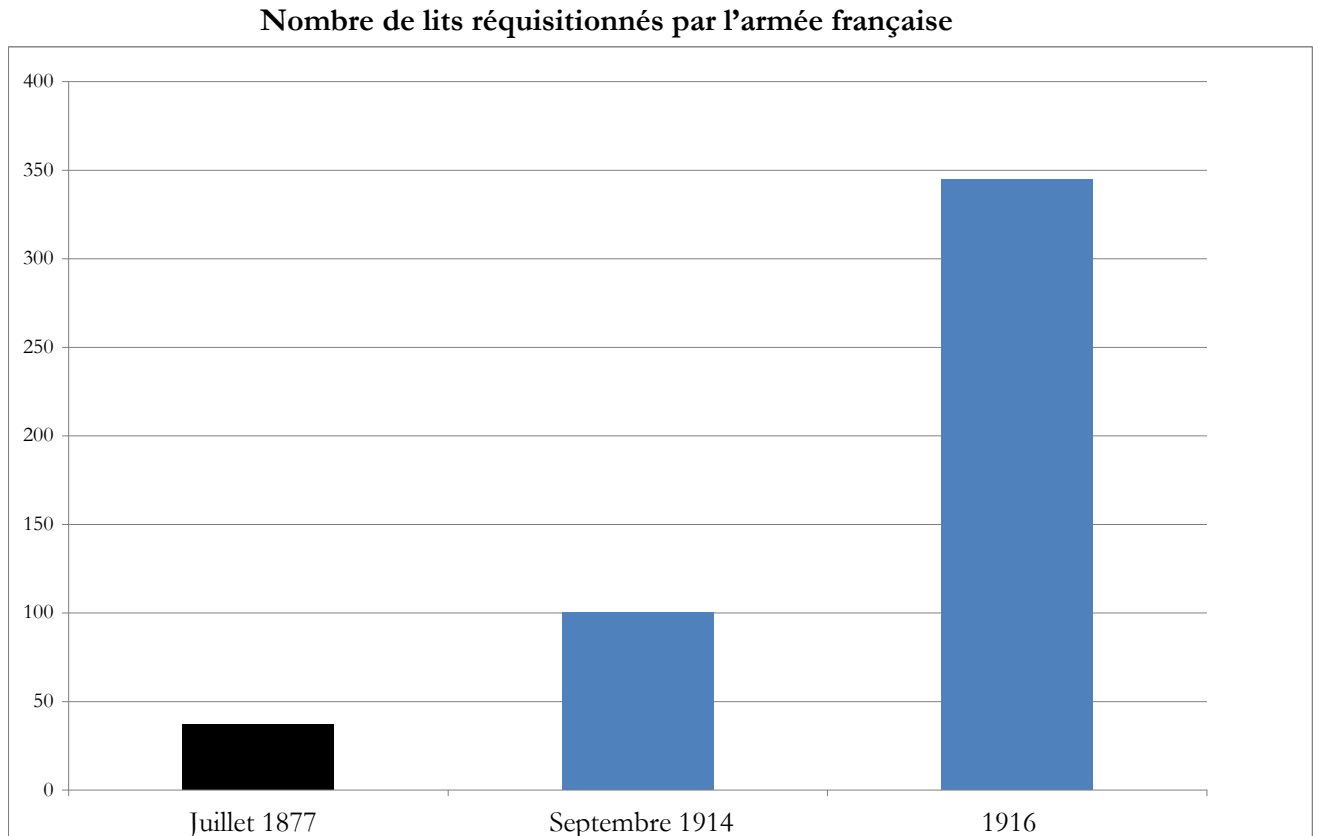
4 – **Soulignez** dans le passage suivant (document en vitrine) les arguments utilisés par Maurice POL-ROGER pour justifier sa réquisition de charbon sur une péniche destinée à Bordeaux.

publics ou militaires très importants. Dans ces conditions, le Maire de la Ville d'Epernay s'est cru de très bonne foi autorisé pour sauvegarder des intérêts supérieurs, à réquisitionner un combustible destiné à une région de l'intérieur qui, par sa situation éloignée du théâtre des hostilités et son voisinage de la mer, lui paraissait pouvoir très facilement être ravitaillée.

Réquisition de péniches (extrait)
Archives municipales d'Epernay, 4H42

L'HÔPITAL AUBAN-MOËT AU CŒUR DU CONFLIT

1 – Remplissez le graphique suivant :



2 – D'après la carte des installations sanitaires (= qui servent à soigner) à la page suivante, que va devoir faire l'hôpital pour **faire face à l'afflux de soldats blessés** ?

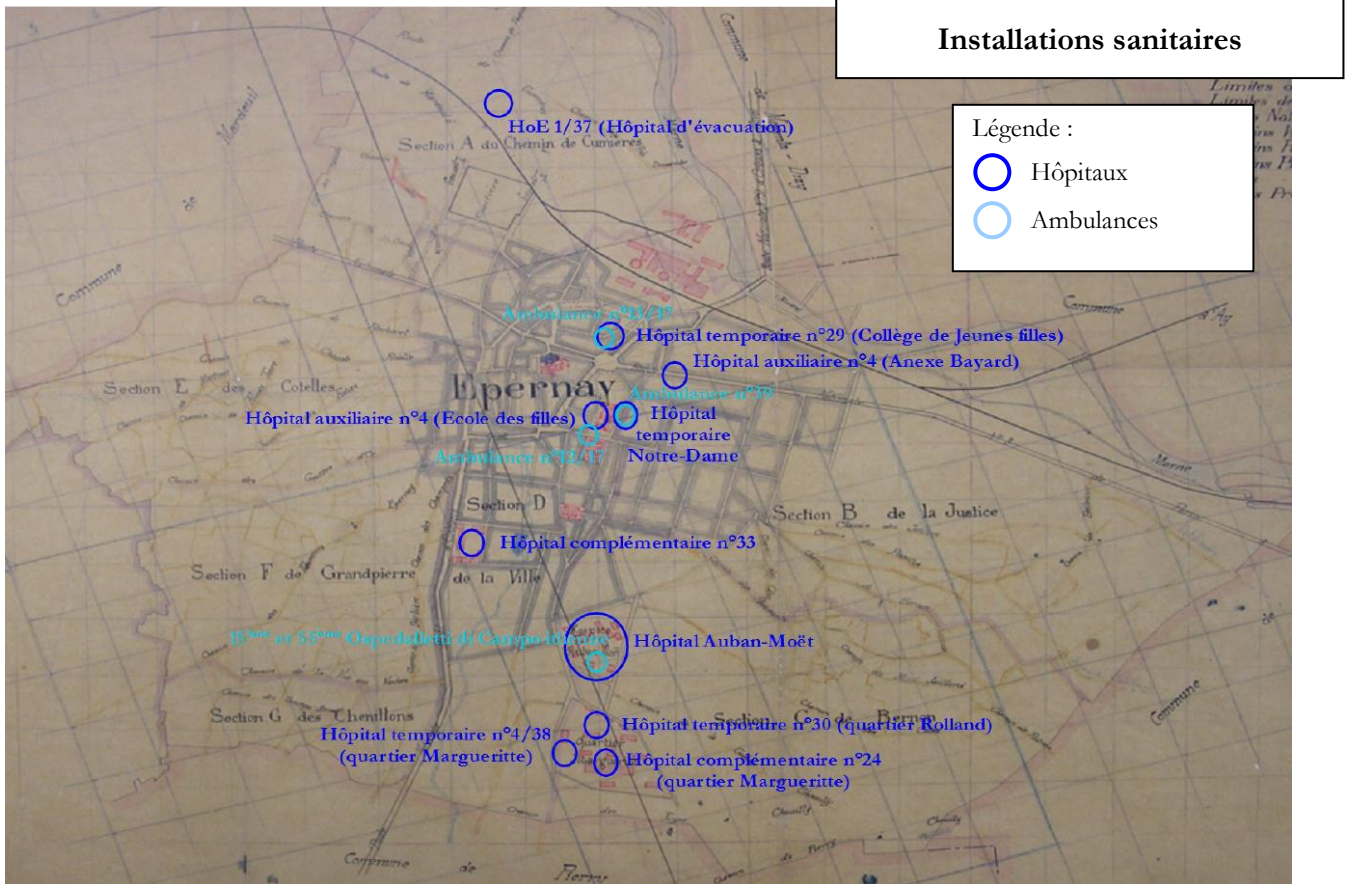
- La ville évacue les soldats blessés ailleurs. La ville d'Épernay va se couvrir durant le conflit d'installations sanitaires complémentaires (hôpitaux et ambulances). La ville construit rapidement un autre hôpital.

3 – Quel va être le principal manque pour l'hôpital ?

- Le manque de médecins car les hommes sont partis au front. Le manque de pansements car il est difficile d'approvisionner la ville. Le manque de place pour soigner toute les personnes (soldats et civils).

4 – En vous aidant du panneau n°2, dites pourquoi la situation sanitaire est plus critique encore à partir de mai 1918 ?

L'offensive allemande se rapproche et Epernay est de plus en plus la cible de l'armée allemande (bombes et obus). Les autorités médicales reçoivent l'ordre de l'armée d'évacuer. La ville se retrouve seule sans médecins. Seul le docteur VERRON reste à son poste.



Réalisé à partir du fonds des Archives municipales d'Epernay (4 H 40) complété par le fonds des Archives départementales de la Marne (2 Z 643) et par l'ouvrage de M. Louis LE PAGE, *Epernay pendant la guerre*, Imprimerie Perfecta, Paris, 1921.

5 - Remplissez le graphique suivant :

